

MATEMATIKA – PROJEKT

Téma projektu	Odčítání s přechodem přes základ 10, tělesa, čáry
Časový harmonogram projektu	1 týden
Datum odevzdání	pondělí 30. března 2020

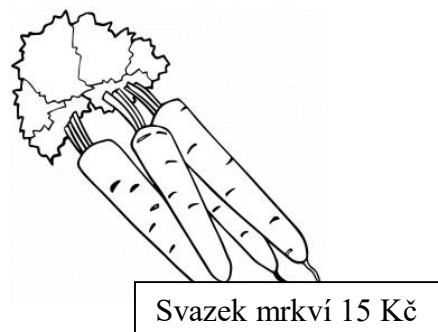
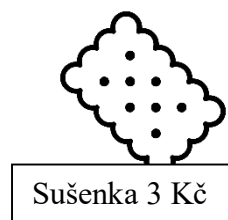

1. Do obchodu s potravinami přivezli 55 rohlíků. Zákazník Ondra si jich koupil 6, zákazník Malaz si jich koupil 9 a zákaznice Hanička si jich koupila 8.

a) Kolik rohlíků zbylo v obchodě?

b) Rohlík stojí 2 Kč. Dokážeš spočítat, kolik korun každý za svůj nákup zaplatil?

2. V obchodě s potravinami najdeš také jiné dobroty. V peněžence máš 42 korun.

a) Vyber 3 potraviny, které si za 42 Kč můžeš v obchodě pořídit. Vybrané obrázky vybarvi.



b) Napiš, kolik korun ti po nákupu zbylo. _____

c) Zakroužkuj / Napiš správnou odpověď: Krabice od mléka je 1. kvádr 2. krychle 3. kužel.

3. Rozhlédni se po bytě/domě/zahradě/balkóně a pozoruj předměty, které mají tvar kvádru, koule a krychle. Od každého tělesa nakresli alespoň jeden předmět.


4. Podívej se na následující video: <https://www.youtube.com/watch?v=vtCQPzO5DrU>

Připrav si pravítko a obyčejnou tužku.

Narýsuj 3 přímé čáry, 3 lomené čáry a nakresli 3 křivé čáry. Nezapomeň je potom správně pojmenovat, ať vím, které je která.

5. Připomínají ti obrázky některé druhy čar? Pokud ano, spoj pastelkou.

lomená čára



přímá čára

křivá čára



Za projekt hned dva! ☺